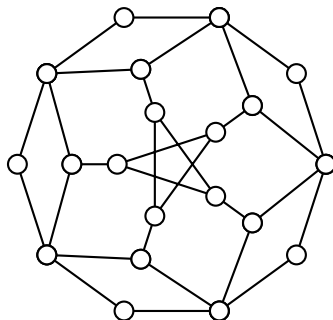
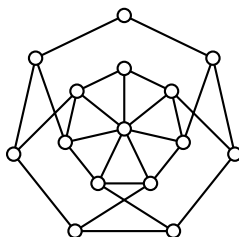


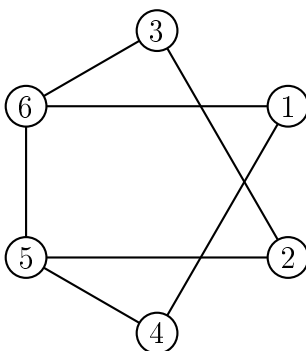
- Določi kromatično število grafa na sliki.
  - Ali je Hamiltonov? Če je, potem nariši kakšen Hamiltonov cikel. Če ni, pa to pokaži z izrekom o razpadu grafa.



- Določi kromatično število grafa na sliki.
  - Ali je Eulerjev?
  - Ali je Hamiltonov?



- Podan imamo spodnji graf  $G$ .



- Graf  $G$  pobarvaj z uporabo požrešne metode za označeni vrstni red oglišč.

